


Adı Soyadı:.....

Numarası:.....



Yukarıdaki işlemde "?." yerine hangi sayı yazılmalıdır?


- A) 6 B) 5 C) 11



Yukarıdaki örüntüde eksik olan nesne hangisidir?



3) Yandaki şekli ifade eden toplama işlemi aşağıdakilerden hangisidir?



- A) $4+2$ B) $5+1$ C) $6+2$



Bize göre çocuk, evin neresindedir?

- A) solunda B) önünde C) sağında

- 5) Kumbaramda 12 TL param var. Paramın 20 TL olması için kaç TL daha biriktirmem gerekiyor?

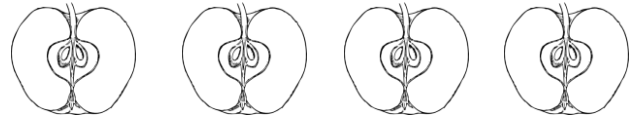


- A) 8 TL B) 10 TL C) 6 TL

- 6) 3 bütün ekmek, kaç yarım ekmek eder?



- A) 5 B) 7 C) 6



- 7) 4 tane yarım elma, kaç bütün elma eder?

- A) 3 B) 2 C) 8

- 8)

$$\begin{array}{r} \square \\ - 7 \\ \hline 5 \end{array}$$

Yandaki çıkarma işleminde eksileni bulmak için hangi işlemi yapmalıyız?

A) $5+7 = 12$

B) $7-5 = 2$

C) $3+4 = 7$



Cemil Kerem Can Cem Deniz

- 9) Yarışmada 4. Durumda bulunan çocuğun adı nedir?

- A) Cemil B) Can C) Kerem

1 0)



Yukarıdaki paranın, değerinin yarısı aşağıdakilerden hangisidir?

A)



1 1) Pınar 8 yaşındadır. Kardeşi Pınar'dan 3 yaş küçüktür.

Pınar ile kardeşinin yaşlarının toplamı kaçtır?

A) 13

B) 15

C) 11

1 2)



6 TL



3 TL



8 TL

Annemin 19 TL'si vardı. Pazardan terlik, kazak ve eldiven aldı. Alışverişten sonra annemin kaç TL'si kaldı?


A) 17

B) 2


C) 3

1 3) Aşağıda verilen şekillerden hangisinin yarısı boyanmıştır?


A)



B)



C)



1 4) 1 onluk + lık = 16 eşitliğinde



yerine hangi sayı gelmelidir?

A) 1

B) 10

C) 6


1 5) Hangi sayının 4 fazlası 19'dur?

A) 15

B) 23

C) 16

1 6)



Yukarıdaki arabalardan birinin sayısı yanlıştır. Onun yerine hangi sayı yazılmalıdır?

A) 25

B) 15

C) 30

1 7) Bugün 23 Nisan Pazartesi, 3 gün sonra tarih kaç olur?

A) 26 Nisan Perşembe

B) 27 Nisan Cuma

C) 26 Nisan Çarşamba

1 8)





Tokalarımın 4 tanesi kaybolunca 11 tane tokam kaldı. Önceden kaç tokam vardı?

A) 7

B) 12

C) 15



1 9) Yukarıdaki hayvanları uzundan kısaya doğru sıraladığımızda 3. sırada hangi hayvan olur?

A) tavuk

B) köpek

C) at

2 0) Aşağıdaki boşlukları tamamlayalım.

İki basamaklı en küçük sayı'dur.

İki basamaklı en büyük sayı'dur.

Bir düzine kalem tanedir.

Bir deste kalem tanedir.

Soba borusu biçimindedir,

